




Lesestufe 4 - einfache Texte

Lesе-Mal-Heft



Name:



Der Affe Theo saß auf dem Boden. Er hatte große Lust auf Bananen. Da kam ein großer Affe und sagte zu Theo: „Du kannst die Hälfte meiner Bananen haben, wenn du mir sagst, wie viele Bananen hinter mir sind und wie viel die Hälfte davon ist.“ Theo zählte und rechnete. Dann sagte er: „Du hast insgesamt _____ Bananen. Die Hälfte davon ist 5.“

Bekam Theo nun die Hälfte der Bananen?

ja

nein




Es war ein sonniger Tag. Nur eine kleine Wolke war am Himmel zu sehen. Eine kleine Kreuzspinne kletterte an einem Baum hinauf. Auf dem Ast saß ein blauer Vogel. Der Vogel sagte: „Was bist du für ein lustiges Tier! Wenn du die Hälfte deiner Beine verlierst, hast du noch doppelt so viele Beine wie ich!“


Hat der Vogel Recht? o ja o nein

Der Bauer trägt einen
Sonnenhut auf dem Kopf. In
der Hand hält er eine
Mistgabel, mit der Kuh- und
Pferdemist auf den
Misthaufen hebt. Der Bauer
hat eine Latzhose an. An den
Füßen trägt er Gummistiefel.

Beschrifte die Sachen auf
dem Bild.

Male die Gummistiefel gelb an.
Male den Stab der Mistgabel
braun an. Male eine Blume
auf den Sommerhut.





Vier Eulen sitzen auf dem Ast.

Die älteste Eule ist 12 Jahre alt. Sie sitzt rechts außen. Links außen sitzt die jüngste Eule, die halb so alt ist wie die zweitjüngste Eule. Die zweitjüngste Eule ist halb so alt wie die älteste Eule. Die zweitjüngste Eule sitzt neben der ältesten Eule. Die letzte Eule ist drei Jahre jünger als die älteste Eule. Die letzte Eule sitzt neben der jüngsten Eule.

Schreibe auf, wie alt welche Eule ist.

Neben diesem Text siehst du sieben Zeilen.
Nummeriere die Zeilen von 1-7, das heißt, dass
du in jede Zeile eine Zahl schreibst. Beginne mit
der 1, ende mit der 7.

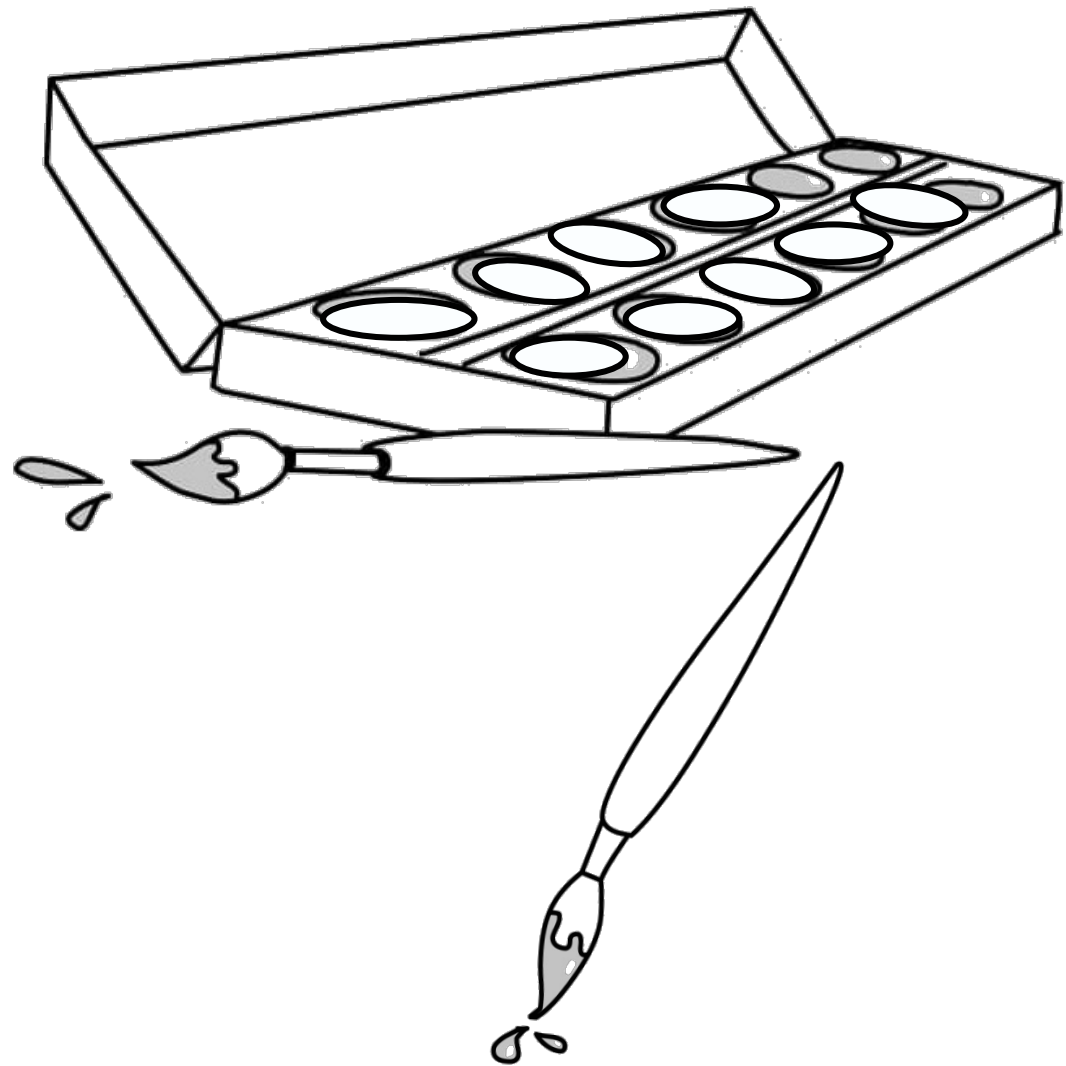
Male drei Strichmännchen in die unterste Zeile.
Schreibe dein Geburtsdatum in die oberste Zeile.
Schreibe ein schwierige Rechenaufgabe in die
zweite Zeile und rechne sie aus.
Schreibe ein schwieriges Wort in die sechste
Zeile.
Schreibe den Namen von einem Instrument dritte
Zeile.
Schreibe einen Tiernamen in die vierte Zeile.
Schreibe eine Jahreszeit in die fünfte Zeile.






Im Wasserfarbkasten sind viele
Farben. Zähle die Farben.
Es sind _____ Farben.

Streiche die Hälfte der Farben
durch. Wie viele Farben sind
noch da? _____

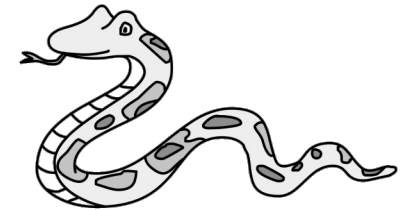
Male die Hälfte der übrigen
Farben an. Wie viele Farben
sollt du anmalen? _____

Male doppelt so viele Pinsel, wie
du schon siehst.





Lies die Sätze und kreise die Tiere mit den verschiedenen
Farben ein.



Kreise alle Tiere mit einem Schnabel rot ein.


Kreise alle Tiere mit mehr als zwei Beinen grün ein.

Kreise alle Tiere mit Fell rosa ein.

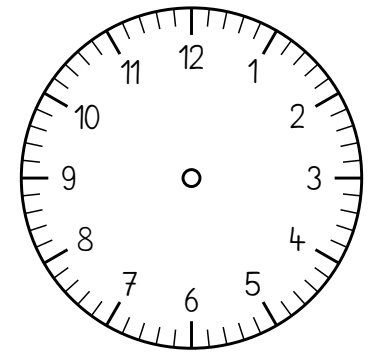
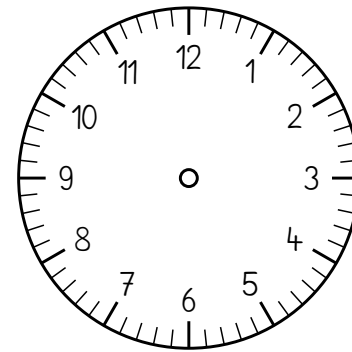
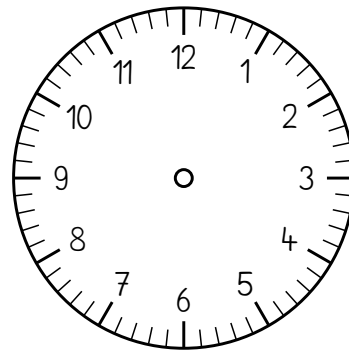
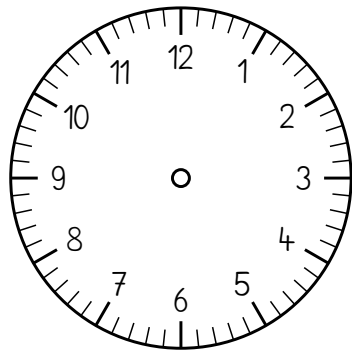
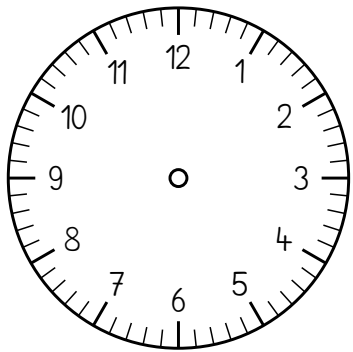

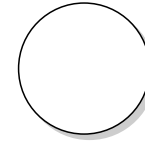
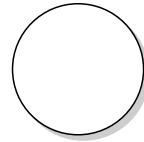
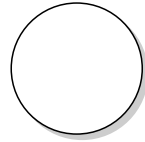

Kreise alle Tiere mit Flügeln gelb ein.

Kreise alle Tiere, die Eier legen, orange ein.

Kreise alle Tiere mit Hufen blau ein.



Lies den Text auf Seite 9. Nummeriere die Bilder in der richtigen Reihenfolge.
Schreibe die Uhrzeit unter jedes Bild.



_____ Uhr

_____ Uhr

_____ Uhr

_____ Uhr

_____ Uhr

Viele Kinder aus der Klasse 2a haben einen ähnlichen Tagesablauf am Abend.

Um halb sieben gibt es Abendessen.

Um sieben Uhr putzt man sich die Zähne.

Um acht Uhr ist man müde und muss gähnen.

Um halb neun geht man ins Bett und schläft.

Spätestens um neun Uhr träumt man.

Wann isst du am Abend?

Wann putzt du dir am Abend die Zähne?

Wann gehst du abends ins Bett?



Trage die verschiedenen Schulstunden in die Tabelle ein.

Die Klasse 2a hat montags zuerst eine Stunde Musik, in der die Kinder singen. Anschließend haben die Kinder Mathe. Nun ist endlich Pause! Dann findet das Lesen und danach Schreiben statt. Zum Schluss haben die Kinder Sport.

	Montag
1	
2	
3	
4	
5	
6	

Trage die verschiedenen Schulstunden in die Tabelle ein.

Deutsch haben die Kinder am Montag und Dienstag in der vierten Stunde und am Freitag in der fünften und sechsten Stunde.

Mathe haben die Kinder am Mittwoch in der ersten und zweiten Stunde und am Freitag in der dritten Stunde.

Sport haben die Kinder am Montag und Mittwoch in der letzten Stunde.

Religion haben die Kinder am Montag in der fünften und sechsten Stunde.




	Montag	Dienstag	Mittwoch	Freitag
1				
2				
3				
4				
5				
6				

Schreibe eine Rechenaufgaben zu den Brillen auf, mit der man rechnet, wie viele Brillen insgesamt da sind.

Wie viele Brillen kann man sehen, wenn man alle Schubladen zu macht?

Schreibe eine Rechenaufgabe, bei der du die Brillen verdoppelst.

--	--	--	--	--	--	--	--	--	--	--	--	--	--	--	--	--	--	--	--



Schreibe in den Kasten das gesamte
Alphabet (ABC).

Wie viele Buchstaben stehen im
Kasten?

Kreise alle Vokale ein.

Schreibe deinen Namen auf die
Linie. Kreise alle Vokale in deinem
Namen ein.





Erasmus+




MLM

make literacy meaningful

www.euliteracy.eu

Lesestufe 4 - einfache Texte



13